



Ministero dell'Istruzione e del Merito  
Ufficio Scolastico Regionale per il Lazio  
ISTITUTO COMPRENSIVO "VIA LUCA GHINI"  
Via Luca Ghini, 58 - 00172 Roma

Tel. 062301075- Fax 0623296412 Cod. Mecc. RMIC8EY00G-Cod. Fisc. 97713020580  
email: [rmic8ey00g@istruzione.it](mailto:rmic8ey00g@istruzione.it) pec: [rmic8ey00g@pec.istruzione.it](mailto:rmic8ey00g@pec.istruzione.it)

CLASSE PRIMA  
MATEMATICA

NOME \_\_\_\_\_ COGNOME \_\_\_\_\_

1) QUAL È IL NUMERO CORRISPONDENTE A 1 da e 3 u?

- A. 31                      B. 30                      C. 13

2) QUALE SEGNO DEVI METTERE AL POSTO DELLA STELLINA?




12 ★ 2 = 10

- A. +                                      B. -

3) QUALE NUMERO CORRISPONDE A 2 da?

- A. 2                                      B. 12                                      C. 20

4) CHI SI TROVA NELLA CASELLA 2 E?

E					
D					
C					
B					
A					
	1	2	3	4	5

- A. PAPERA                      B. CHIOCCIOLA                      C. TOPOLINO

5) PER IL COMPLEANNO DI GIOVANNA LA MAMMA HA GONFIATO 18 PALLONCINI. IL GATTO NE BUCA 6. QUANTI PALLONCINI RESTANO PER LA FESTA?

- A 10                                      B 12                                      C 14




6) MARTA HA LASCIATO SULLA SABBIA IL SUO SECCHIELLO. INDICA L'IMPRONTA CHE HA LASCIATO.



7) METTI IN ORDINE CRESCENTE (CIOÈ DAL PIÙ PICCOLO AL PIÙ GRANDE) I SEGUENTI NUMERI.  
17 6 12 9 20


\_\_\_\_\_

8) QUANTI TRIANGOLI VEDI NEL ROBOT?

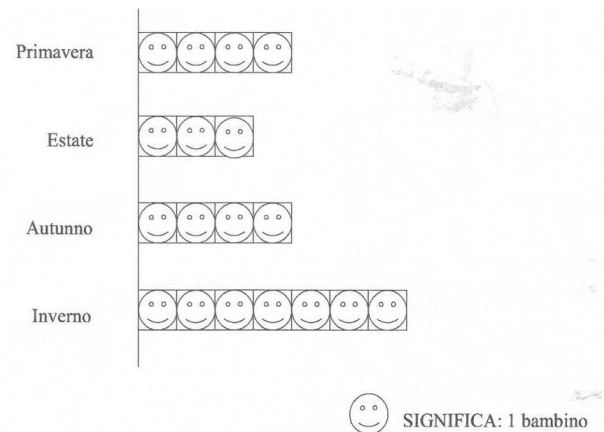


A. 2      B. 3      C. 4

9) OSSERVA I QUATTRO NASTRI. COLORA DI ROSSO IL PIÙ LUNGO; DI VERDE IL PIÙ CORTO



10) IL DISEGNO RAPPRESENTA IN QUALE STAGIONE SONO NATI I BAMBINI DI UNA CLASSE



QUANTI SONO I BAMBINI DI QUELLA CLASSE?

A. 7      B. 15      C. 18